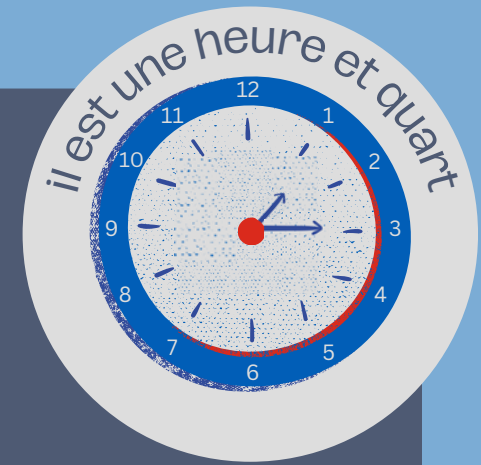


Quelle heure est-il?

il est midi/ minuit

il est onze heures

il est une heure



il est dix heures

il est deux heures

il est neuf heures

il est trois heures



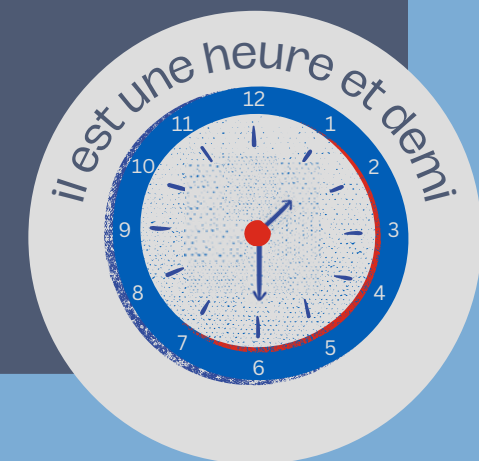
il est huit heures

il est quatre heures


il est sept heures

il est cinq heures

il est six heures



est-ce le matin ou l'après-midi ?



C'est le matin

il est midi

il est vingt-trois heures

il est vingt-deux heures

il est vingt et une heures

il est vingt heures

il est dix-neuf heures

il est dix-huit heures

il est treize heures

il est quatorze heures

il est quinze heures

il est seize heures

il est dix-sept heures

il est minuit

il est onze heures

il est dix heures

il est neuf heures

il est huit heures

il est sept heures

il est six heures

il est une heure


il est deux heures

il est trois heures


il est quatre heures

il est cinq heures

C'est l'après-midi



est-ce le matin ou l'après-midi ?



il est minuit

il est onze heures

il est dix heures

il est neuf heures

il est huit heures

il est sept heures

il est six heures

il est une heure

il est deux heures

il est trois heures

il est quatre heures

il est cinq heures



C'est le matin

il est midi

il est vingt-trois heures

il est vingt-deux heures

il est vingt et un heures

il est vingt heures

il est dix-neuf heures

il est dix-huit heures

il est treize heures


il est quatorze heures

il est quinze heures


il est seize heures

il est dix-sept heures

C'est l'après-midi



C'est le matin



il est minuit

il est onze heures

il est une heure

il est dix heures

il est deux heures

il est neuf heures

il est trois heures

il est huit heures

il est quatre heures


il est sept heures

il est cinq heures

il est six heures



C'est l'après-midi



il est midi/ minuit

il est vingt-trois heures

il est treize heures

il est vingt-deux heures

il est quatorze heures

il est vingt et un heures

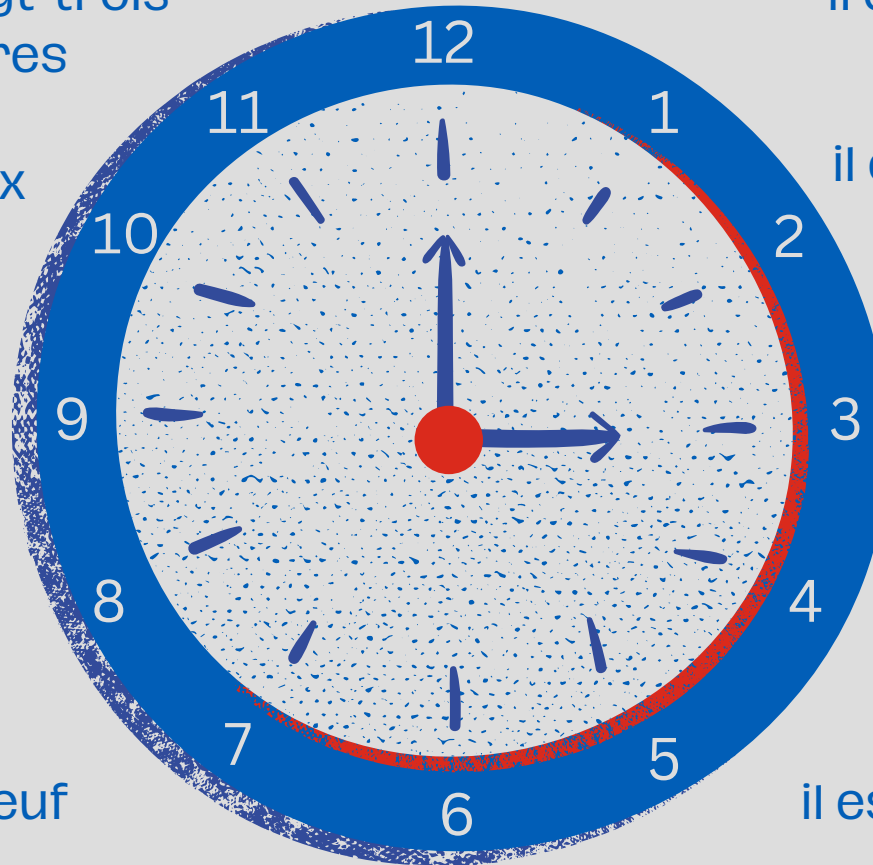
il est quinze heures

il est vingt heures


il est seize heures

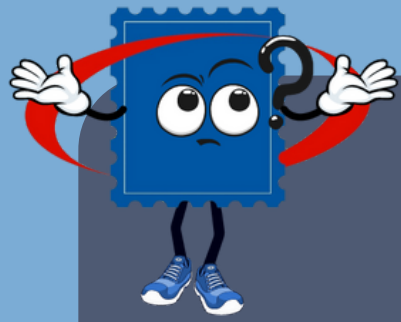
il est dix-neuf heures

il est dix-sept heures



il est dix-huit heures





Quelle heure est-il?

Il est ____ heure(s)

